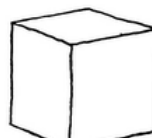


PROGRAMA	Educación Regular	AREA/ASIGNATURA	Geo estadística
SEDE	Divisa	FECHA	
ESTUDIANTE		GRADO	1

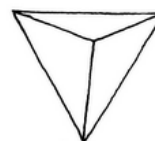
1. Actividades:

- Dibuja cuatro objetos y señala en ellos los ángulos que forman los lados principales de cada objeto.
 - Dibuja una pirámide y pinta cada lado de diferente color.
 - Analiza los siguientes datos de la encuesta y escribe los datos en una tabla.
 - En el grado 1A hay 51 alumnos, 30 de ellos son hombres y 21 son mujeres. 20 de ellos viven en el barrio La Divisa y el resto en el barrio Juan XXIII. Las edades promedio de los niños están divididas así: 19 niños de 7 años, 16 niñas de 6 años y del resto de estudiantes no se tiene registro de sus edades. Cuántos son el resto de alumnos a los que no se les conoce la edad?

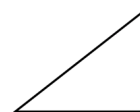
- Observa la figura y cuenta los lados.



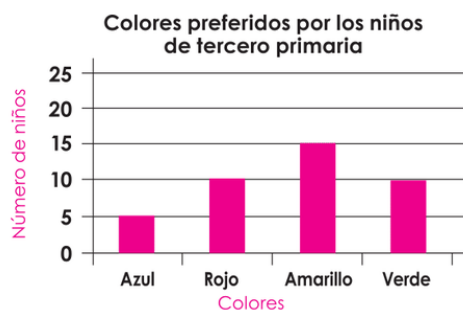
- Observa la figura y cuenta los lados.



- Observa la figura y señala en ella los lados y el vértice.



- Analiza la tabla y responde las siguientes preguntas:
 - Cuál es el color que más prefieren los niños? _____
 - Cuál es el color que menos prefieren los niños? _____
 - Cuántos niños prefieren el color verde? _____
 - Cuántos niños prefieren el color rojo? _____
 - Cuántos niños prefieren el color rojo y el amarillo? _____
 - Cuántos niños prefieren el color azul? _____



- Recomendaciones:
 - Desarrollar las actividades en el cuaderno de cada asignatura.
 - Desarrollar las actividades con la ayuda de un adulto.
 - Preparar la sustentación del taller (que se hará en clase)
 - Si surge alguna duda, abordar a la docente.