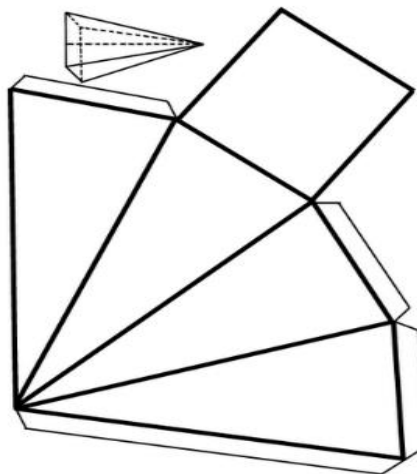
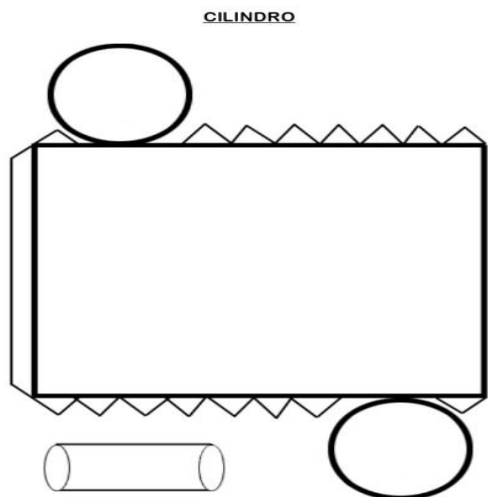


PLAN DE APOYO PRIMER PERIODO 2020

PROGRAMA	Educación Regular	AREA/ASIGNATURA	GEOESTADISTICA
SEDE	Divisa	FECHA	
ESTUDIANTE		GRADO	4A

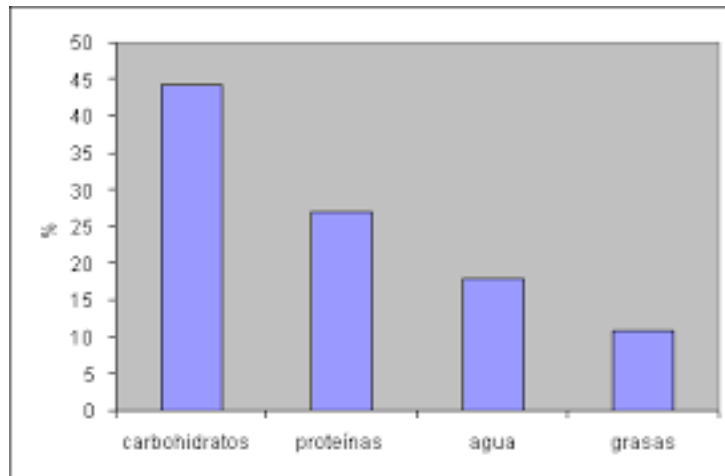
Actividades:

1. ¿Qué es una figura geométrica sólida?
2. Dada las siguientes plantillas de algunos cuerpos sólidos, nombra cada una de ellas.



3. Enumera algunos objetos tridimensionales.
4. Elabora dos graficas de triángulos:
 - a. Adyacentes
 - b. Complementarios.
5. Enumera cada uno de los tipos de diagramas.

6. Dada la siguiente grafica de diagrama de barras, crea la tabla de datos



7. Realiza la actividad de la guía página 39, el cuadro comparativo.

8. Elabora dos problemas matemáticos.

Recomendaciones:

- Comprar y pegar el taller en el cuaderno
- El taller se presenta con las normas ICONTEC, en el cuaderno de geo estadística
- Este taller debe ser realizado con el acompañamiento de un adulto responsable